

Name : _____

Score : _____

Teacher : _____

Date : _____

Classify each angle as acute, obtuse, right, or straight.

1)  _____

6)  _____

2)  _____

7)  _____

3)  _____

8)  _____

4)  _____

9)  _____

5)  _____

10)  _____

11) 135° _____

16) 102° _____

12) 90° _____

17) 154° _____

13) 180° _____

18) 3° _____

14) 11° _____

19) 153° _____

15) 77° _____

20) 47° _____

Name : _____

Score : _____

Teacher : _____

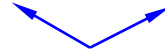
Date : _____

Classify each angle as acute, obtuse, right, or straight.

1)

Acute

6)

Obtuse

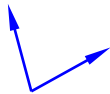
2)

Acute

7)

Obtuse

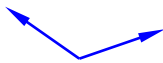
3)

Acute

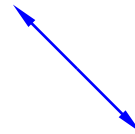
8)

Right

4)

Obtuse

9)

Straight

5)

Obtuse

10)

Acute11) 135° Obtuse16) 102° Obtuse12) 90° Right17) 154° Obtuse13) 180° Straight18) 3° Acute14) 11° Acute19) 153° Obtuse15) 77° Acute20) 47° Acute